

# Regnehistorier

## 4 B



Navn:

---

Der var en gang en mor og en far de havde 10 børn. Deres alder var:

- 13 år
- 9 år
- 5 år
- 11 år
- $10\frac{1}{2}$  år
- $20\frac{1}{2}$  år
- 17 år
- 14 år
- 16 år
- 1 år



Hvor mange år var de tilsammen?

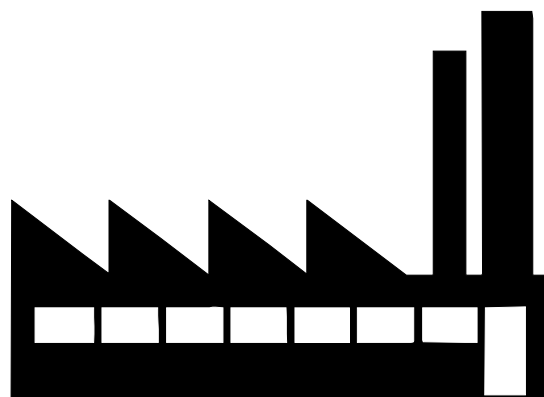
*Skrevet af Mads L.*

---

Karen er 35 år og hendes bror Karl Børge er 55 år. De har lige købt en mælkefabrik hver som ligger i Odense. Karens fabrik er  $157 \text{ m}^2$  og Karl Børges fabrik er  $93 \text{ m}^2$ .  $1 \text{ m}^2$  koster 100 kr. Hvad kostede deres fabrikker hver især og hvor meget tilsammen?

*Skrevet af Amanda*


---



Der var en gang en kanin der elskede at lave små lorte. Den første gang lavede den 16, så 29, og så 12. Så forsvandt der 15, men næste dag lavede den 161. Hvor mange var der nu?

*Skrevet af Marcus*

---




Der var en gang to børn, de havde 150 kr. De skulle i biffen med deres mor, men de havde ikke nok penge til slik og sodavand. Deres mor blev nød til at hæve nogle penge.

- Billetter kostede 50 stk.
- Slikposer 25 kr. for 2 og 20 kr. for 1
- Sodavand 20 kr. stk.

Hvor mange penge skulle hun hæve?

*Skrevet af Simon*


---



Mig og min ven Rikke J. skulle i Zoo. Vi så en giraf som var 2,3 m. lang, og vi så en girafunge som var 1,8 m. Vi så en hest som var 1,5 m. lang og en elefant som var 1,9 m. lang. Til sidst så vi en kæmpe skildpadde som var 1,3 m lang. Hvor meget er det i alt?

*Skrevet af Rikke C.*


---



Der var en gang to børn. De havde 1055 kr. og de skulle have 2 katte. En kat kostede 75 kr. Hvor mange penge havde de tilbage efter købet?

*Skrevet af Mads Emil*

---



Mia og Morten skulle til byen. De fik 200 kr. hver. Mia købte en barbie dukke til 150 kr. og Morten købte en spideman til 100 kr. Hvor meget har de tilbage tilsammen?

*Skrevet af Sofie*


---



Jeg var ude og handle sammen med min veninde Sofie. Vi fik en indkøbsseddel og der stod at vi skulle have æbler, makrel, leverpostej, agurk, tomater, remulade, smør, mælk, æg, ris-kiks og slikkepinde. Vi havde 300 kr. med og vi brugte 243 kr. Hvor mange penge fik vi tilbage?

*Skrevet af Emilie*

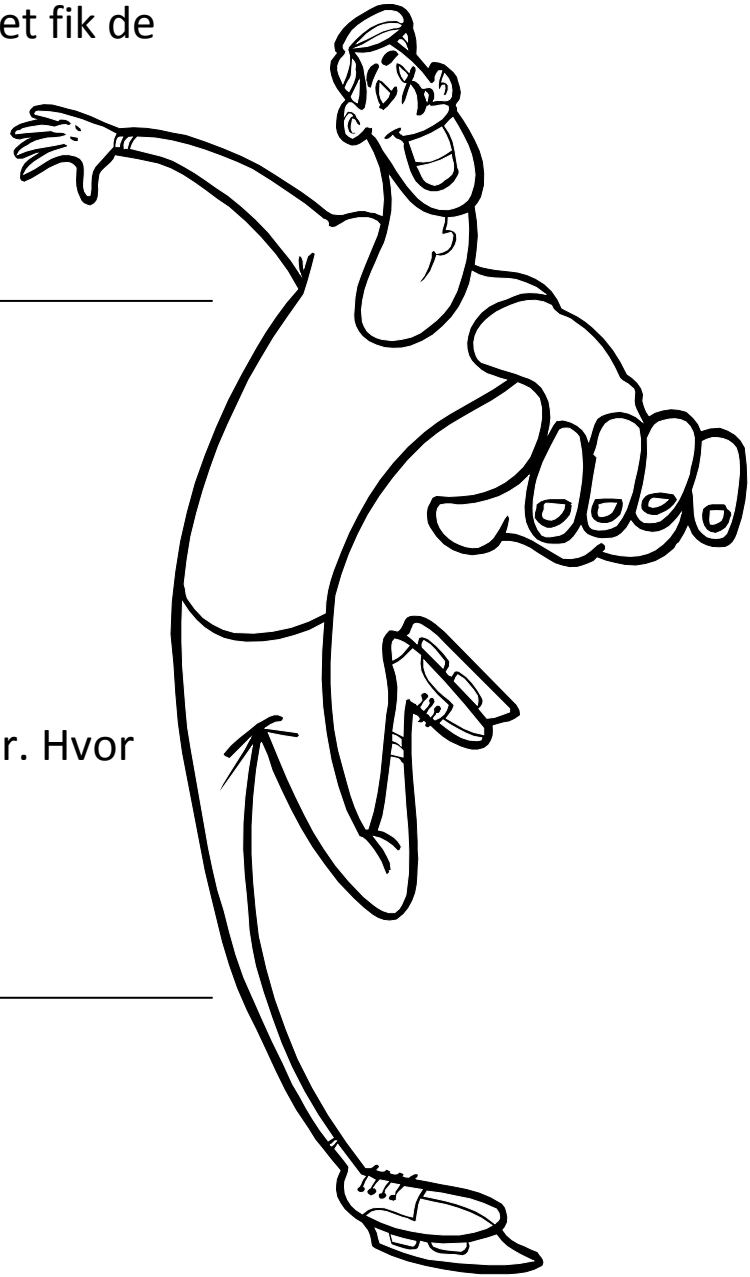
---



Der var en gang 5 drenge der skulle i skøjtehallen. Det kostede 21 kr. for at komme ind og det kostede 27 kr. for at låne skøjter. De havde 300 kr. i det hele, hvor meget fik de tilbage?

*Skrevet af Sebastian*

---



50 kaniner, 39 harer og 9999 geder. Hvor mange dyr er der i alt?

*Skrevet af Andreas M.*


---



Der var en gang 5 drenge de skulle i svømmehallen og svømme. Det kostede 22 en halv krone for at komme ind, og de havde 243 kroner. Hvor meget fik de tilbage?

*Skrevet af Martin*

---



Der var en gang to aliens. De havde taget 500 mennesker til fange, de 275 undslap. Senere fangede de 54 men 33 blev skudt ned af astrorider. Hvor mange mennesker holdt de fanget?

*Skrevet af Frederik*

---



Sten og Sine skulle i bio med deres mor og far. De fik 100 kr. at købe slik for. Sten købte en mellem popcorn for 30 kr. Han blandede også lidt slik det kostede 55 kr. Og en mellem cola for 7 kr. Sine købte en stor cola for 70 kr. en voksenbillet kostede 45 kr. og en børnebillet kostede 25 kr. Hvor meget kostede det hele tilsammen?

*Skrevet af Rikke J.*

---





Der var en gang to børn der fik 750 kr. hver. Den ene ville have et playstationspil for 230 kr. Den anden ville have en Build a Bear der kostede 310 kr. Hvor mange penge havde de tilovers tilsammen?

*Skrevet af Victor*

---



For lang tid siden i et fjernt fjernt land var der en dreng som hed Emil. En dag skulle han ud og samle 100 svampe. Han fandt 67 svampe der var gode, resten op til de 100 var giftige. Hvor mange var giftige?

*Skrevet af Mikkel*

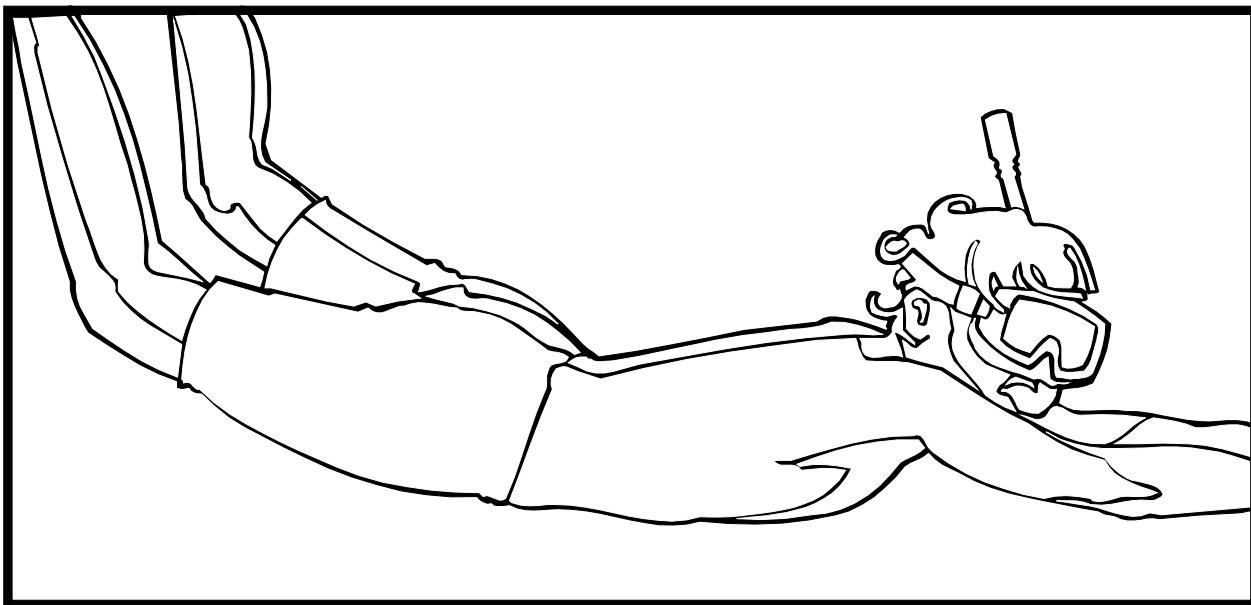
---



Der var en gang 2 dykkere. Den ene hed Katjakaj den anden Bentebent. De skulle ud og dykke. Katjakaj dykkede helt ned på bunden, det var 63 meter dybt. Bentebent dykkede 23 meter ned. Hvor meget dykkede de i alt?

*Skrevet af Ida*


---



Der var en gang fem heste. De hed Tabasco, Lise Veena, Dranella og Stjerne. De kostede 55.000 kr. hver. Hvor meget giver det i alt?

*Skrevet af Fie*


---



Der var en gang 4 høns. De lagde hver 6 æg hver dag i 2 uger.  
Hvor mange æg lagde de?

*Skrevet af Anne*

---



Der var en gang en lille prinsesse som havde 25 kroner, men 7 af dem blev væk. En dag fandt hun 229 kr. på gaden og så fik hun 7 kr. af sin mor. Hvor mange penge havde hun nu?

*Skrevet af Julie*


---



Der var en gang en mand. Han havde 1000 kr. til at købe dyr for. Han skulle købe 2 heste for 255 kr. 3 grise for 149 kr. og en kat for 41 kr. Hvor mange penge brugte han?

*Skrevet af Andreas S.*

---



4. klasse skulle købe ind til deres julefest. De købte følgende:

- 6 julelys til 7 kr. stykket
- 4 kasser sodavand til 75 kr. stykket
- Mad for 545 kr.
- Julegaver til deres 3 søde lærere. 140 kr. stykket

De fik pant tilbage for flaskerne, det var 120 kr. Hvor meget kom deres julefest til at koste dem i alt?

*Skrevet af Christian*

---

